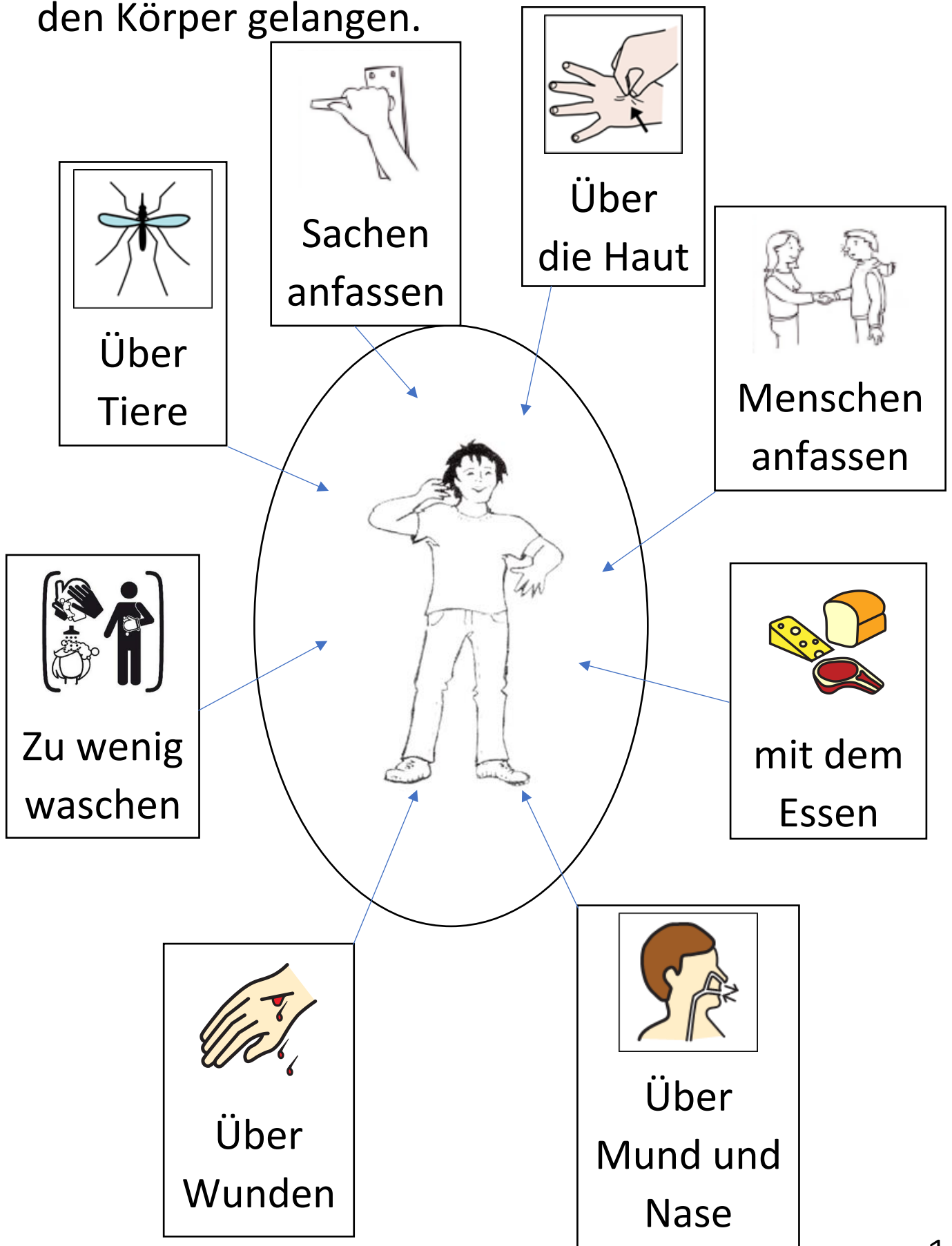
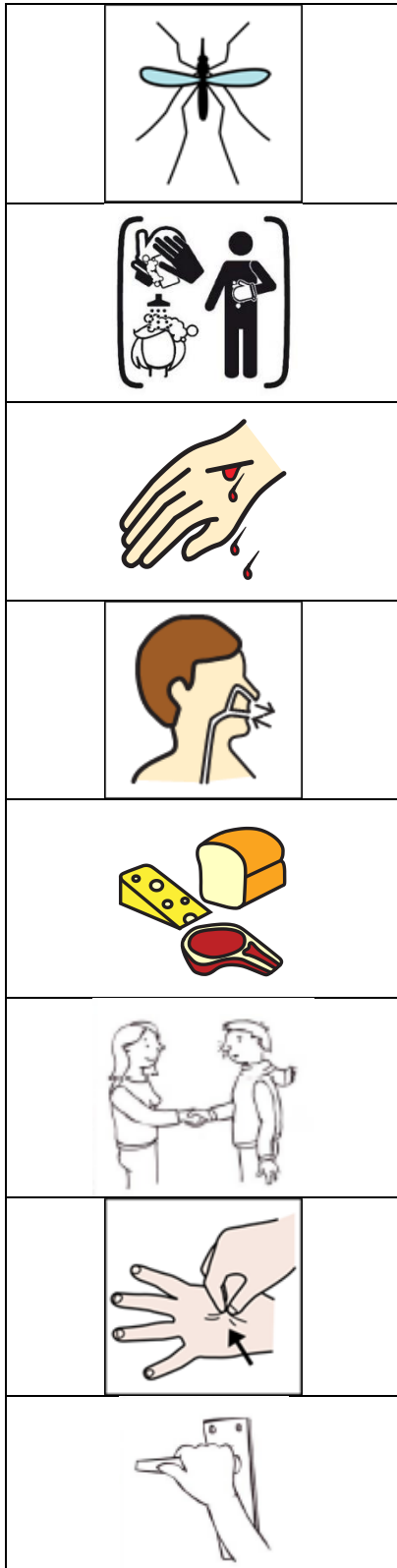


Erreger können auf verschiedene Weise in den Körper gelangen.



### Aufgabe 1:

Verbinde die richtigen Wörter und Bilder miteinander!



Über Nase  
und Mund

Über die Haut

Zu wenig  
waschen

Menschen  
anfassen

Über Tiere









Über Wunden

Über  
Lebensmittel

Sachen  
anfassen

## Aufgabe 2:

Schreibe die richtigen Wörter neben das jeweilige Bild!

	<hr/> <hr/> <hr/>
	<hr/> <hr/> <hr/>
	<hr/> <hr/> <hr/>
	<hr/> <hr/> <hr/>
	<hr/> <hr/> <hr/>
	<hr/> <hr/> <hr/>
	<hr/> <hr/> <hr/>
	<hr/> <hr/> <hr/>

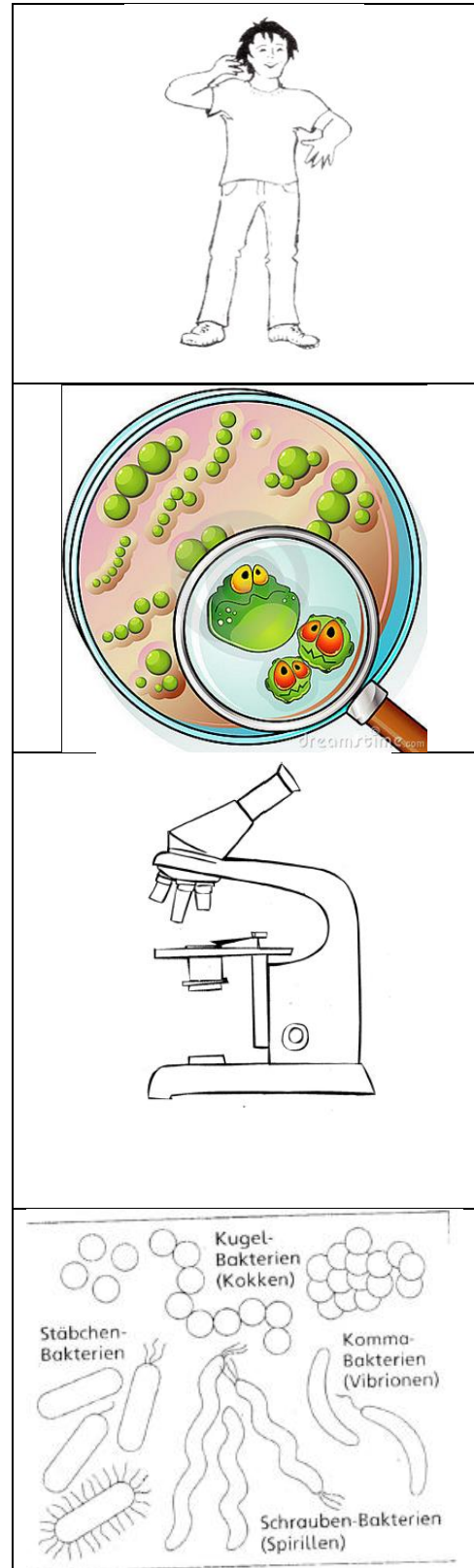
Wie du in Kapitel 2 gelernt hast, können wir uns über viele verschiedene Wege mit Krankheiten **anstecken**.

Daran sind **Keime** schuld. Die sind so **klein**, dass man sie **nicht sehen** kann.

Es gibt verschiedene Keime: **Bakterien** und **Viren**.

Um sie zu sehen, braucht man ein **Mikroskop**.

Wenn man sie unter dem Mikroskop anschaut, sehen **Bakterien** so aus:



Und **Viren** so:

Viren und Bakterien sind  
**überall um uns herum.**

Wenn sie in unseren  
Körper kommen, **können**  
sie **uns krank machen.**





Kreuze die richtige Antwort an:

1.

Keime sind sehr groß.

Keime sind sehr klein.

2.

Um Keime zu sehen braucht man eine  
Brille.

Um Keime zu sehen, braucht man ein  
Mikroskop.

3.

Keime sind überall um uns herum.

Keime findet man nur im Müll.

4.

Keime können uns krank machen.

Keime können uns gesund machen.



**Aufgabe 1:** Zeichne ein Bakterium.

(Hilfe findest du auf Seite 4.)



**Aufgabe 2:** Zeichne einen Virus.

(Hilfe findest du auf Seite 5.)

## Aufgabe:

Erkläre, was du auf den Bildern siehst.

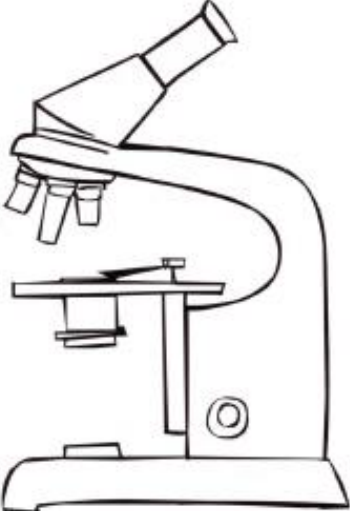
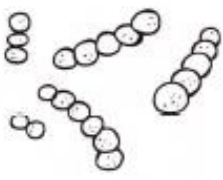









Schneide die Bildkarten und die Wortkarten aus.



Klebe sie in das richtige Kästchen.








Seite 15:

✂

 <b>Bakterien</b>	 <b>Mikroskop</b>	 <b>Viren</b>
<b>Mikroskop</b>	<b>Viren</b>	<b>Bakterien</b>


Seite 17:

✂

		
Bakterien	Mikroskop	Viren

## Aufgabe:

Erkläre, was du auf den Bildern siehst.



Schneide die Bildkarten aus.

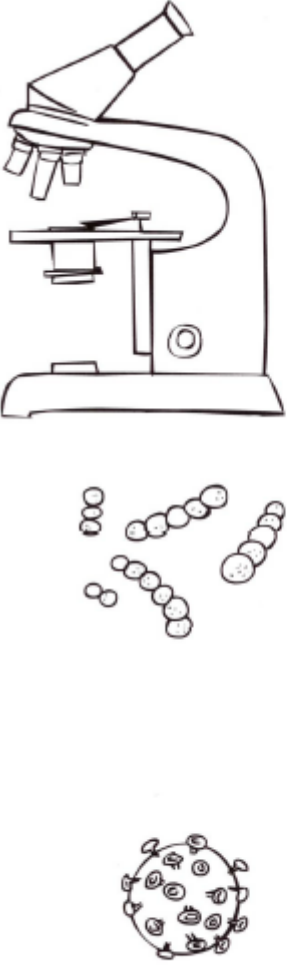


Klebe sie in das richtige Kästchen.



Schreibe das richtige Wort auf die Zeile.





The image contains a line drawing of a microscope in the top left corner. Below it are three types of microorganisms: a chain of several small circles, a cluster of small circles, and a larger spherical cell with internal structures and small protrusions on its surface.
